










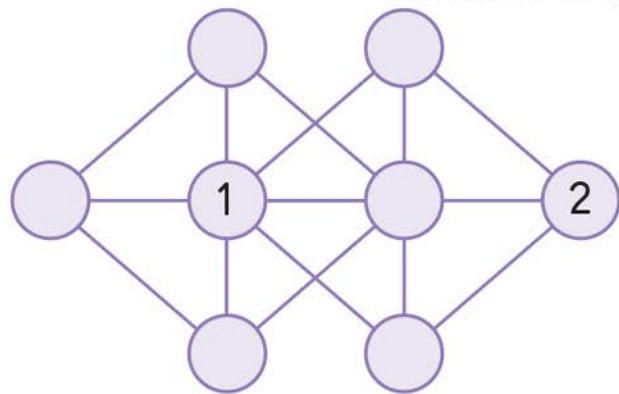
# משחקים

כמה שווה כל חיה, כדי לקיים את התרגילים במבנה הבא?

	+		-		= 24
	+		+		= 19
	+		-		= 10
=		=		=	
19		12		6	

 =          =          =          =          =     

שכצו בתבנית את המספרים 1 עד 8, כך שאף מספר לא יהיה מחבר בקו עם מספר עוקב לו (נלמשל, ל- 4 אסור להיות מחבר עם 3 או עם 5).



<del>1</del>	<del>2</del>	3	4
5	6	7	8

